



Deberes de matemáticas

Resuelve las siguientes operaciones:



$$\begin{array}{r} 676 \\ + \\ \hline 1.398 \end{array}$$

$$\begin{array}{r} 726 \\ + \\ \hline 1.059 \end{array}$$

$$\begin{array}{r} + 841 \\ \hline 1.765 \end{array}$$

$$\begin{array}{r} + 300 \\ \hline 1.199 \end{array}$$

$$\begin{array}{r} 3.500 \\ - 1.729 \\ \hline \end{array}$$

$$\begin{array}{r} 7.810 \\ - 3.253 \\ \hline \end{array}$$

$$\begin{array}{r} 992,0 \\ - 848,1 \\ \hline \end{array}$$

$$\begin{array}{r} 5.138 \\ - 2.950 \\ \hline \end{array}$$

$$\begin{array}{r} 7.734 \\ \times 74 \\ \hline \end{array}$$

$$\begin{array}{r} 85.456 \\ \times 26 \\ \hline \end{array}$$

$$\begin{array}{r} 64.711 \\ \times 18 \\ \hline \end{array}$$

$$\begin{array}{r} 17.262 \\ \times 10 \\ \hline \end{array}$$

$$8.245 \overline{)6}$$

$$94.284 \overline{)2}$$

$$49.265 \overline{)9}$$

$$75.908 \overline{)5}$$

$$86.215 \overline{)4}$$

$$6.209 \overline{)7}$$



Responde este cuestionario.

Los términos de la multiplicación se llaman _____.

El resultado de la multiplicación es el _____.

Multiplicar 6×3 es igual que multiplicar $3 \times$ ____.

El doble de quince es _____.

El triple de ocho es _____.

El producto de un número por cero es _____.

El producto de un número por 1 es _____.

Dividir es _____ una cantidad en partes iguales.

Los términos de la división son _____, _____, _____ y resto.

El _____ es la cantidad que se reparte.

El cociente es el _____ de la división.

Una división es exacta si el resto es _____.

Una división es inexacta si el resto es _____.

Comprobamos que una división está bien calculada si multiplicando el divisor por el cociente y sumando el _____, el resultado es el _____.

La mitad de treinta es _____.

La tercera parte de un número se halla _____ dicho número entre _____.

Ordena de mayor a menos los siguientes números:



89,25
87,81
32,43
97,13
32,73
67,17

Di el valor de posición de la cifra subrayada:

910,3 = _____

934 = _____

80.012 = _____

5.582 = _____

9.450 = _____

470 = _____

68.030 = _____

1.673 = _____

5,96 = _____

392 = _____

Completa:

941 = _____

XVII = _____

CCCXL = _____

627 = _____

XXIX = _____

92 = _____

XIX = _____

DCCLXIX = _____

Resuelve las siguientes operaciones:



$$\begin{array}{r} 130 \\ + 941 \\ \hline \end{array}$$

$$\begin{array}{r} + 718 \\ \hline 1.188 \end{array}$$

$$\begin{array}{r} 954 \\ + 821 \\ \hline \end{array}$$

$$\begin{array}{r} 550 \\ + 813 \\ \hline \end{array}$$

$$\begin{array}{r} 484,9 \\ - 472,7 \\ \hline \end{array}$$

$$\begin{array}{r} 627,4 \\ - 344,6 \\ \hline \end{array}$$

$$\begin{array}{r} 274,4 \\ - 151,6 \\ \hline \end{array}$$

$$\begin{array}{r} 692,3 \\ - 232,4 \\ \hline \end{array}$$

$$\begin{array}{r} 3.602 \\ \times 89 \\ \hline \end{array}$$

$$\begin{array}{r} 1.441 \\ \times 23 \\ \hline \end{array}$$

$$\begin{array}{r} 2.896 \\ \times 83 \\ \hline \end{array}$$

$$\begin{array}{r} 1.933 \\ \times 97 \\ \hline \end{array}$$

$$6.413 \overline{)8 \underline{\hspace{1cm}}}$$

$$64.092 \overline{)5 \underline{\hspace{1cm}}}$$

$$45.227 \overline{)6 \underline{\hspace{1cm}}}$$

$$9.260 \overline{)2 \underline{\hspace{1cm}}}$$

$$43.570 \overline{)7 \underline{\hspace{1cm}}}$$

$$23.712 \overline{)4 \underline{\hspace{1cm}}}$$



Calcula el resultado de las siguientes fracciones:

$$\frac{73}{100} = \underline{\hspace{2cm}} \quad \frac{319}{1000} = \underline{\hspace{2cm}} \quad \frac{1}{10} = \underline{\hspace{2cm}} \quad \frac{5}{10} = \underline{\hspace{2cm}}$$

$$\frac{8}{10} = \underline{\hspace{2cm}} \quad \frac{75}{100} = \underline{\hspace{2cm}} \quad \frac{28}{100} = \underline{\hspace{2cm}} \quad \frac{6}{10} = \underline{\hspace{2cm}}$$

$$\frac{79}{100} = \underline{\hspace{2cm}} \quad \frac{338}{1000} = \underline{\hspace{2cm}} \quad \frac{271}{1000} = \underline{\hspace{2cm}} \quad \frac{93}{100} = \underline{\hspace{2cm}}$$

$$\frac{4}{10} = \underline{\hspace{2cm}} \quad \frac{7}{10} = \underline{\hspace{2cm}} \quad \frac{464}{1000} = \underline{\hspace{2cm}} \quad \frac{48}{100} = \underline{\hspace{2cm}}$$

Transforma en las unidades que corresponda:

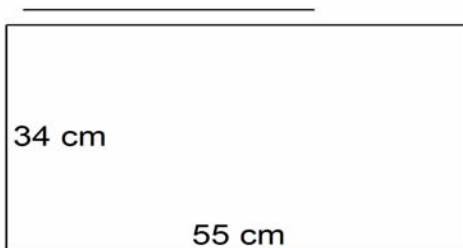
① 96 mm = cm ② 60 hm = km

③ 35 m = km ④ 51 m = km

⑤ 38 cm = dam ⑥ 36 hm = km

⑦ 47 mm = dm ⑧ 11 hm = km

Calcula el perímetro de la siguiente figura:



Solución:

Resuelve las siguientes operaciones:



$$\begin{array}{r} 36.360 \\ + 58.751 \\ \hline \end{array}$$

$$\begin{array}{r} 268 \\ + 3.475 \\ \hline \end{array}$$

$$\begin{array}{r} 964,9 \\ + 34,1 \\ \hline \end{array}$$

$$\begin{array}{r} 743 \\ + 704 \\ \hline \end{array}$$

$$\begin{array}{r} 305,3 \\ - 223,2 \\ \hline \end{array}$$

$$\begin{array}{r} 9.275 \\ - 4.868 \\ \hline \end{array}$$

$$\begin{array}{r} 353,6 \\ - 140,9 \\ \hline \end{array}$$

$$\begin{array}{r} 2.809 \\ - 2.611 \\ \hline \end{array}$$

$$\begin{array}{r} 7.298 \\ \times 55 \\ \hline \end{array}$$

$$\begin{array}{r} 9.460 \\ \times 99 \\ \hline \end{array}$$

$$\begin{array}{r} 32.033 \\ \times 97 \\ \hline \end{array}$$

$$\begin{array}{r} 7.168 \\ \times 41 \\ \hline \end{array}$$

$$91.402 \overline{)7}$$

$$68.246 \overline{)2}$$

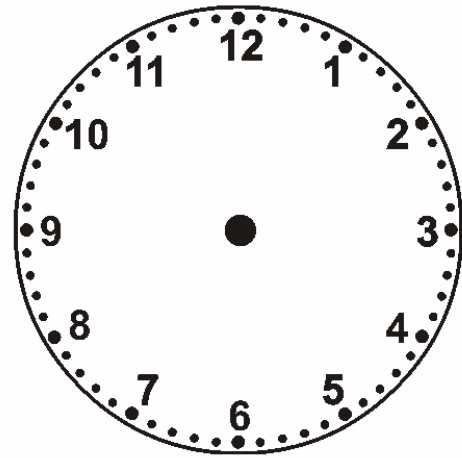
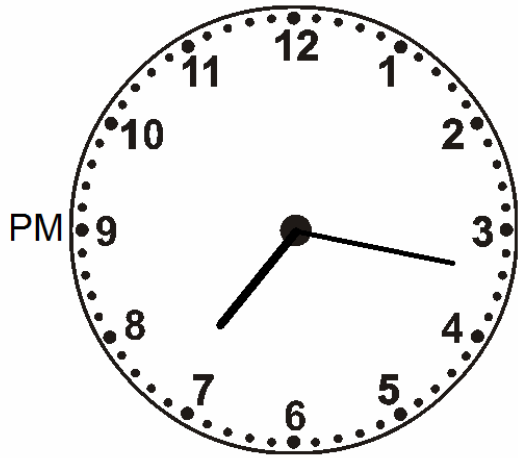
$$82.231 \overline{)3}$$

$$30.954 \overline{)8}$$

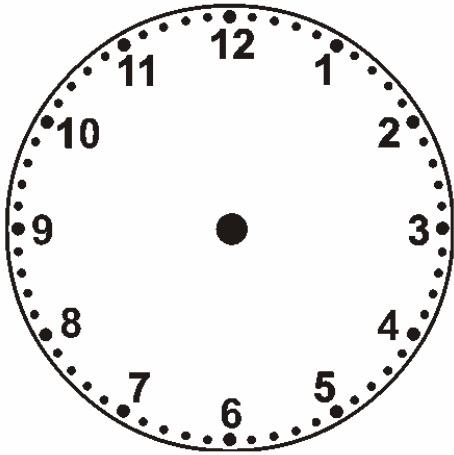
$$59.611 \overline{)8}$$

$$73.726 \overline{)6}$$

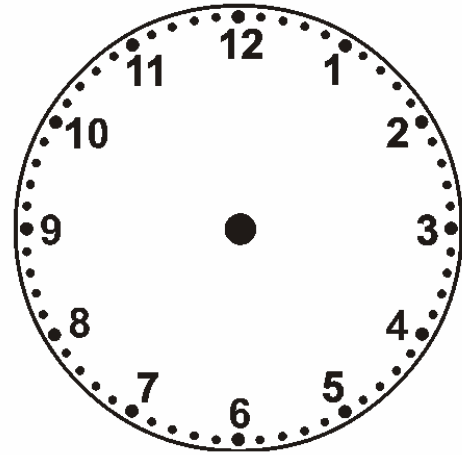
Completa los siguientes relojes:



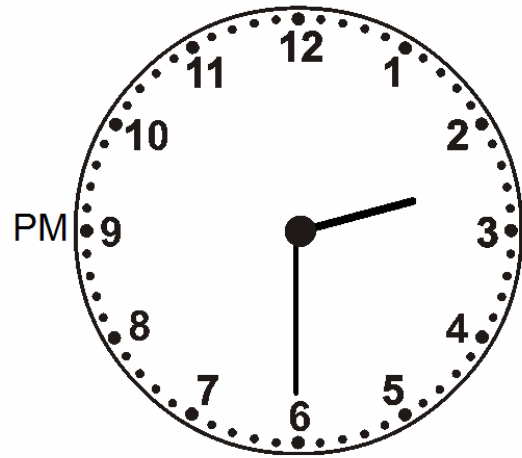
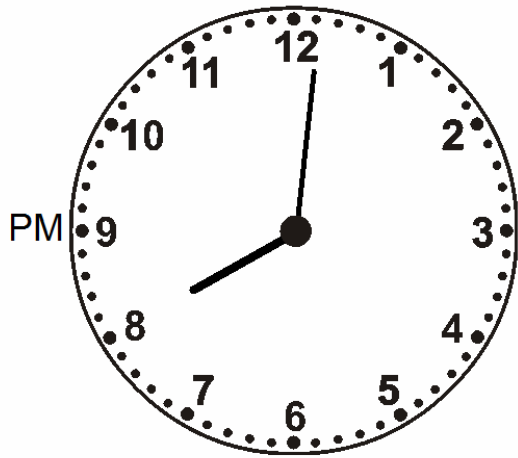
08:14



21:27



11:59



Completa:







Dibuja las siguientes cantidades con el menor número de monedas y billetes posibles:

27 euros con 55 céntimos	11 euros con 15 céntimos
9 euros con 30 céntimos	57 euros con 5 céntimos

Resuelve las siguientes operaciones:



$$\begin{array}{r} 36.360 \\ + 58.751 \\ \hline \end{array}$$

$$\begin{array}{r} 268 \\ + 3.475 \\ \hline \end{array}$$

$$\begin{array}{r} 964,9 \\ + 34,1 \\ \hline \end{array}$$

$$\begin{array}{r} 743 \\ + 704 \\ \hline \end{array}$$

$$\begin{array}{r} 804,2 \\ - 495,8 \\ \hline \end{array}$$

$$\begin{array}{r} 434,0 \\ - 221,3 \\ \hline \end{array}$$

$$\begin{array}{r} 7.257 \\ - 4.286 \\ \hline \end{array}$$

$$\begin{array}{r} 1.287 \\ - 1.112 \\ \hline \end{array}$$

$$\begin{array}{r} 8.535 \\ \times 64 \\ \hline \end{array}$$

$$\begin{array}{r} 4.876 \\ \times 23 \\ \hline \end{array}$$

$$\begin{array}{r} 99.153 \\ \times 90 \\ \hline \end{array}$$

$$\begin{array}{r} 1.400 \\ \times 28 \\ \hline \end{array}$$

$$8.245 \overline{)6}$$

$$94.284 \overline{)2}$$


$$49.265 \overline{)9}$$


$$32.804 \overline{)60}$$

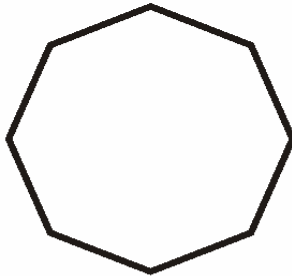
$$4.283 \overline{)53}$$

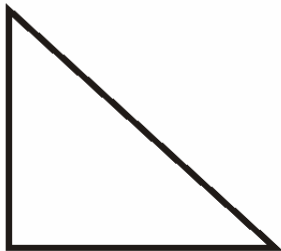
$$61.659 \overline{)29}$$

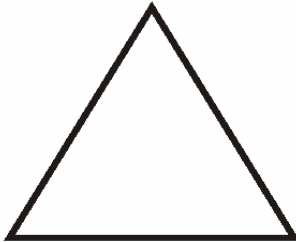
Escribe el nombre de éstos polígonos:




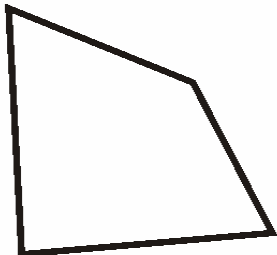


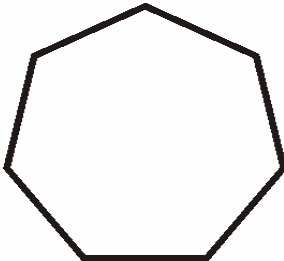














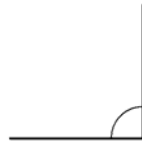




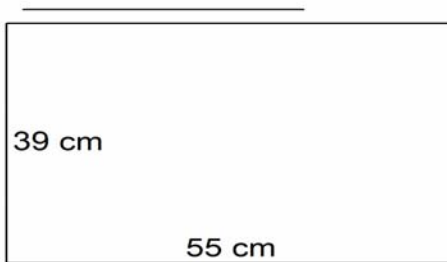




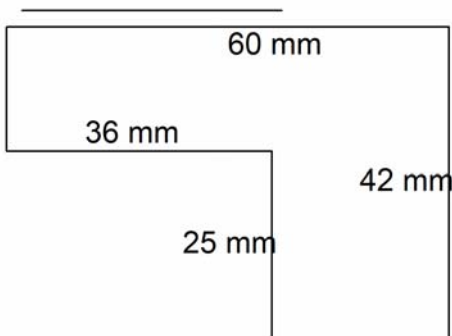
Mide los siguientes ángulos:



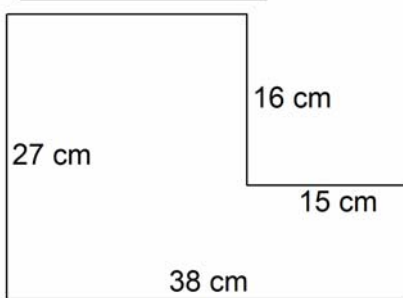
Calcula el perímetro de estas figuras:



Solución: _____



Solución: _____



Solución: _____



Encuentra los números que faltan.

1 litro equivale a cuartos de litro.

2 litros equivalen a medios litros.

2 medios litros equivalen a ... cuartos de litro.

3 litros es lo mismo que ... medios litros.

8 cuartos de litro es lo mismo que litros.

1 decalitro es lo mismo que 10 litros.

Medio decalitro equivale a litros

5 litros es lo mismo que medios litros.

4 litros es lo mismo que cuartos de litro.

En un recipiente de 5 litros echas 2 litros y 3 cuartos de litro de agua. ¿Cuánto te falta para llenarlo?

A una fiesta de cumpleaños acuden 6 niños. Si cada niño consume medio litro de bebida, ¿cuántos litros debemos comprar?

La madre de Luis le envía a comprar 1 litro de agua mineral y 2 litros de leche. ¿A cuántos cuartos de litro equivale esa compra?

Resuelve las siguientes operaciones:



$$\begin{array}{r} 299,0 \\ + 393,6 \\ \hline \end{array}$$

$$\begin{array}{r} 41,1 \\ + 3.626,3 \\ \hline \end{array}$$

$$\begin{array}{r} 51.611 \\ + 4.848 \\ \hline \end{array}$$

$$\begin{array}{r} 8.874,1 \\ + 6.419,0 \\ \hline \end{array}$$

$$\begin{array}{r} 6.480 \\ - 3.506 \\ \hline \end{array}$$

$$\begin{array}{r} 292,6 \\ - 247,1 \\ \hline \end{array}$$

$$\begin{array}{r} 446,2 \\ - 103,7 \\ \hline \end{array}$$

$$\begin{array}{r} 478,6 \\ - 296,8 \\ \hline \end{array}$$

$$\begin{array}{r} 36.822 \\ \times 68 \\ \hline \end{array}$$

$$\begin{array}{r} 7.554 \\ \times 93 \\ \hline \end{array}$$

$$\begin{array}{r} 95.711 \\ \times 96 \\ \hline \end{array}$$

$$\begin{array}{r} 16.266 \\ \times 42 \\ \hline \end{array}$$

$$75.908 \overline{)5}$$

$$86.215 \overline{)4}$$

$$6.209 \overline{)7}$$

$$67.822 \overline{)14}$$

$$29.619 \overline{)67}$$

$$31.336 \overline{)76}$$



Calcula el resultado de las siguientes fracciones:

$$\frac{16}{100} = \underline{\hspace{2cm}} \quad \frac{89}{100} = \underline{\hspace{2cm}} \quad \frac{353}{1000} = \underline{\hspace{2cm}} \quad \frac{9}{100} = \underline{\hspace{2cm}}$$

$$\frac{3}{10} = \underline{\hspace{2cm}} \quad \frac{98}{100} = \underline{\hspace{2cm}} \quad \frac{708}{1000} = \underline{\hspace{2cm}} \quad \frac{3}{100} = \underline{\hspace{2cm}}$$

$$\frac{706}{1000} = \underline{\hspace{2cm}} \quad \frac{398}{1000} = \underline{\hspace{2cm}} \quad \frac{39}{100} = \underline{\hspace{2cm}} \quad \frac{2}{10} = \underline{\hspace{2cm}}$$

Completa:

$$85 = \underline{\hspace{4cm}} \quad 95 = \underline{\hspace{4cm}}$$

$$189 = \underline{\hspace{4cm}} \quad 14 = \underline{\hspace{4cm}}$$

$$27 = \underline{\hspace{4cm}} \quad XXI = \underline{\hspace{4cm}}$$

$$823 = \underline{\hspace{4cm}} \quad 89 = \underline{\hspace{4cm}}$$

$$CDLXXV = \underline{\hspace{4cm}} \quad 49 = \underline{\hspace{4cm}}$$

Resuelve:

Un tarro contiene medio litro de tomate triturado. Otro tarro contiene el doble que el primero. ¿Cuánto falta para tener 2 litros?

Me mandan vaciar 3 botellas de 3 cuartos de litro en un recipiente que puede contener medio decalitro. ¿Caben las 6 botellas o no? ¿Cuánto sobra o falta?



Ordena de mayor a menor:

3.623
5.545
7.711
3.518
9.031
2.515

7.841
7.215
8.874
3.897
9.453
4.159

Completa las siguientes series:

5, 8, 11, 14, 17, 20, 23, __, __

12, 16, 20, 24, 28, 32, 36, __, __

42, 47, 52, 57, 62, 67, 72, __, __

Completa estas tablas:

3	x	4	3	9	6	8
	68					
	94					
	15					
	55					
	80					

4	x	100	100	100	100	100
	572					
	774					
	3					
	459					
	534					

Completa:



Dibuja las siguientes cantidades con el menor número de monedas y billetes posibles:

<p>27 euros con 55 céntimos</p>	<p>11 euros con 15 céntimos</p>
<p>9 euros con 30 céntimos</p>	<p>57 euros con 5 céntimos</p>

Resuelve las siguientes operaciones:



$$\begin{array}{r} 699,6 \\ + 945,6 \\ \hline \end{array}$$

$$\begin{array}{r} 2.889 \\ + 146 \\ \hline \end{array}$$

$$\begin{array}{r} 287,22 \\ + 3,65 \\ \hline \end{array}$$

$$\begin{array}{r} 122,5 \\ + 74,1 \\ \hline \end{array}$$

$$\begin{array}{r} 8.904 \\ - 6.527 \\ \hline \end{array}$$

$$\begin{array}{r} 943,9 \\ - 687,7 \\ \hline \end{array}$$

$$\begin{array}{r} 844,1 \\ - 559,7 \\ \hline \end{array}$$

$$\begin{array}{r} 325,8 \\ - 192,5 \\ \hline \end{array}$$

$$\begin{array}{r} 3.136 \\ \times 98 \\ \hline \end{array}$$

$$\begin{array}{r} 70.097 \\ \times 89 \\ \hline \end{array}$$

$$\begin{array}{r} 62.232 \\ \times 48 \\ \hline \end{array}$$

$$\begin{array}{r} 9.443 \\ \times 73 \\ \hline \end{array}$$

$$6.413 \overline{)8 \quad \underline{\hspace{1cm}}}$$

$$64.092 \overline{)5 \quad \underline{\hspace{1cm}}}$$


$$45.227 \overline{)6 \quad \underline{\hspace{1cm}}}$$

$$93.934 \overline{)22 \quad \underline{\hspace{1cm}}}$$

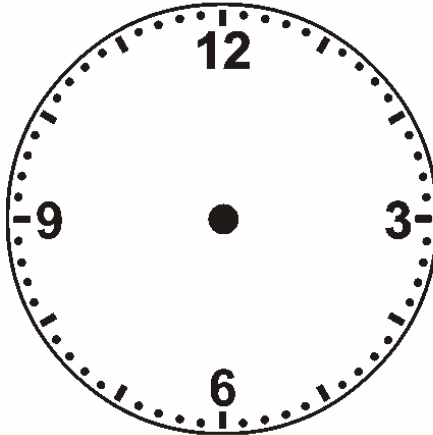
$$59.035 \overline{)85 \quad \underline{\hspace{1cm}}}$$

$$91.651 \overline{)64 \quad \underline{\hspace{1cm}}}$$

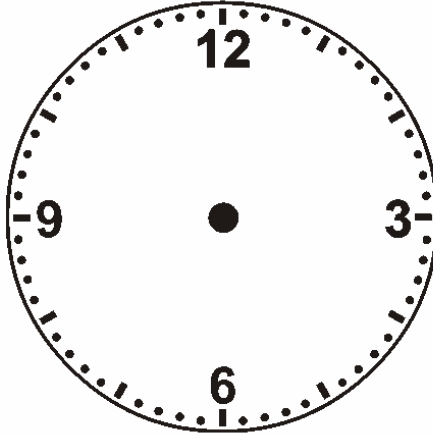

Completa los siguientes relojes:



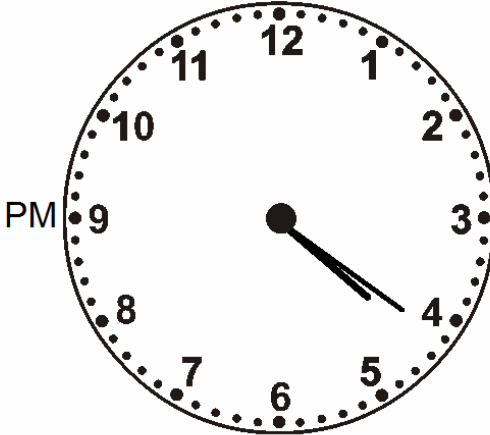
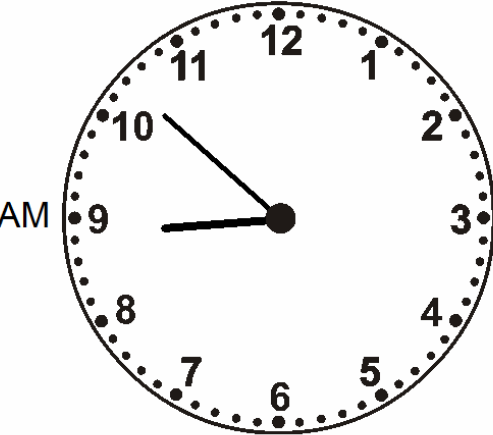
16:16



19:07



01:23





Escribe el valor de posición de las cifras subrayadas:

$9.0\underline{7}8 = \underline{\hspace{2cm}}$

$\underline{4}3.107 = \underline{\hspace{2cm}}$

$5\underline{2}0 = \underline{\hspace{2cm}}$

$96.9\underline{6}2 = \underline{\hspace{2cm}}$

$1.7\underline{2}2,9 = \underline{\hspace{2cm}}$

$5.\underline{1}01 = \underline{\hspace{2cm}}$

$\underline{4}9,97 = \underline{\hspace{2cm}}$

$\underline{1}93,1 = \underline{\hspace{2cm}}$

$4\underline{6}3,5 = \underline{\hspace{2cm}}$

$\underline{9}15,6 = \underline{\hspace{2cm}}$

$\underline{1}98,5 = \underline{\hspace{2cm}}$

$5\underline{8}.906 = \underline{\hspace{2cm}}$

Resuelve:

Daniel compró 25 sellos de 5 céntimos de euro cada uno. ¿Cuánto le devolvieron si entregó una moneda de 2 € (200 céntimos) para pagar?

Averigua los días que han pasado desde el día que naciste hasta hoy.

Nací el día: _____

Hoy es día: _____

Han pasado: _____

Óscar tiene en la hucha 4,50 euros. si saca 1,25 , ¿cuánto le queda?. Con el dinero que sacó se compra tres libretas de 0,20 € y una goma de 0,15 €, ¿cuánto dinero le sobró del que sacó de la hucha?. Este dinero que le sobró lo pone de nuevo en la hucha, ¿cuánto dinero tiene ahora?.

Resuelve las siguientes operaciones:



$$\begin{array}{r} 6.314 \\ + 1.710 \\ \hline \end{array}$$

$$\begin{array}{r} 197 \\ + 28.934 \\ \hline \end{array}$$

$$\begin{array}{r} 45.350 \\ + 365 \\ \hline \end{array}$$

$$\begin{array}{r} 6.348 \\ + 364 \\ \hline \end{array}$$

$$\begin{array}{r} 7.091 \\ - 3.314 \\ \hline \end{array}$$

$$\begin{array}{r} 624,4 \\ - 606,9 \\ \hline \end{array}$$

$$\begin{array}{r} 2.886 \\ - 2.247 \\ \hline \end{array}$$

$$\begin{array}{r} 669,4 \\ - 638,8 \\ \hline \end{array}$$

$$\begin{array}{r} 96.805 \\ \times 21 \\ \hline \end{array}$$

$$\begin{array}{r} 2.406 \\ \times 42 \\ \hline \end{array}$$

$$\begin{array}{r} 1.952 \\ \times 50 \\ \hline \end{array}$$

$$\begin{array}{r} 83.908 \\ \times 29 \\ \hline \end{array}$$

$$9.260 \overline{)2}$$

$$43.570 \overline{)7}$$

$$23.712 \overline{)4}$$

$$19.675 \overline{)59}$$

$$84.112 \overline{)23}$$

$$31.062 \overline{)49}$$



Completa estas series:

99, 93, 87, 81, 75, 69, 63, __ , __

40, 43, 41, 45, 43, 48, 46, __ , __

1, 2, 4, 8, 10, 20, 22, __ , __

6, 8, 12, 18, 26, 36, 48, __ , __

81, 77, 73, 69, 65, 61, 57, __ , __

Expresa las siguientes fracciones en números decimales:

$$\frac{61}{100} = \underline{\hspace{2cm}}$$

$$\frac{629}{1000} = \underline{\hspace{2cm}}$$

$$\frac{1}{10} = \underline{\hspace{2cm}}$$

$$\frac{5}{10} = \underline{\hspace{2cm}}$$

$$\frac{3}{10} = \underline{\hspace{2cm}}$$

$$\frac{22}{100} = \underline{\hspace{2cm}}$$

$$\frac{895}{1000} = \underline{\hspace{2cm}}$$

$$\frac{827}{1000} = \underline{\hspace{2cm}}$$

$$\frac{4}{10} = \underline{\hspace{2cm}}$$

$$\frac{2}{10} = \underline{\hspace{2cm}}$$

$$\frac{16}{100} = \underline{\hspace{2cm}}$$

$$\frac{306}{1000} = \underline{\hspace{2cm}}$$

$$\frac{8}{10} = \underline{\hspace{2cm}}$$

$$\frac{336}{1000} = \underline{\hspace{2cm}}$$

$$\frac{516}{1000} = \underline{\hspace{2cm}}$$

$$\frac{49}{100} = \underline{\hspace{2cm}}$$

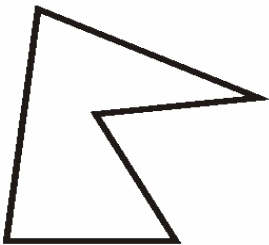
$$\frac{57}{100} = \underline{\hspace{2cm}}$$

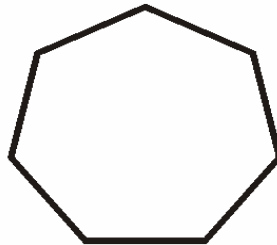

$$\frac{544}{1000} = \underline{\hspace{2cm}}$$

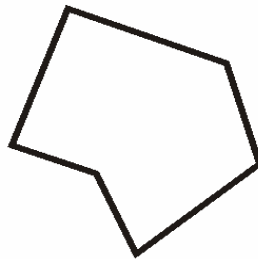

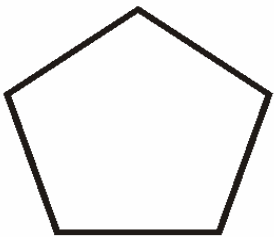
$$\frac{7}{10} = \underline{\hspace{2cm}}$$

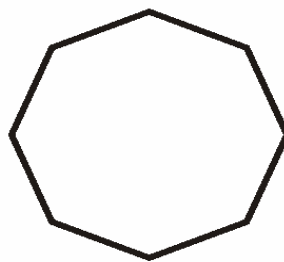
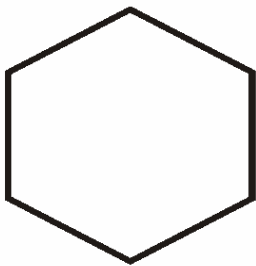
$$\frac{25}{100} = \underline{\hspace{2cm}}$$

Escribe el nombre de los siguientes polígonos. Señala los vértices en azul, los lados en rojo y los ángulos en verde.











Completa:

① $57 \text{ dam} = \underline{\hspace{2cm}} \text{ hm}$ ② $82 \text{ m} = \underline{\hspace{2cm}} \text{ hm}$

③ $50 \text{ dm} = \underline{\hspace{2cm}} \text{ dam}$ ④ $80 \text{ hm} = \underline{\hspace{2cm}} \text{ km}$

⑤ $71 \text{ hm} = \underline{\hspace{2cm}} \text{ km}$ ⑥ $76 \text{ m} = \underline{\hspace{2cm}} \text{ km}$

⑦ $85 \text{ hm} = \underline{\hspace{2cm}} \text{ km}$ ⑧ $58 \text{ mm} = \underline{\hspace{2cm}} \text{ dm}$

Escribe el nombre y dibuja las figuras que tengan las siguientes características:

Sus lados son triángulos y su base es un hexágono:

Sus lados son paralelogramos y su base es un octógono:

Sus bases son círculos y no tiene vértices:

Sus lados son cuadrados y tiene 6 caras:

Resuelve las siguientes operaciones:



$$\begin{array}{r} 39,21 \\ + 302,32 \\ \hline \end{array}$$

$$\begin{array}{r} 19,67 \\ + 483,75 \\ \hline \end{array}$$

$$\begin{array}{r} 49,7 \\ + 318,5 \\ \hline \end{array}$$

$$\begin{array}{r} 928,6 \\ + 98,3 \\ \hline \end{array}$$

$$\begin{array}{r} 818,8 \\ - 687,6 \\ \hline \end{array}$$

$$\begin{array}{r} 4.020 \\ - 1.948 \\ \hline \end{array}$$

$$\begin{array}{r} 115,2 \\ - 100,8 \\ \hline \end{array}$$

$$\begin{array}{r} 481,3 \\ - 463,8 \\ \hline \end{array}$$

$$\begin{array}{r} 31.369 \\ \times 88 \\ \hline \end{array}$$

$$\begin{array}{r} 2.526 \\ \times 96 \\ \hline \end{array}$$

$$\begin{array}{r} 8.178 \\ \times 49 \\ \hline \end{array}$$

$$\begin{array}{r} 5.894 \\ \times 20 \\ \hline \end{array}$$

$$91.402 \overline{)7 \quad \underline{\hspace{2cm}}}$$

$$68.246 \overline{)2 \quad \underline{\hspace{2cm}}}$$

$$82.231 \overline{)3 \quad \underline{\hspace{2cm}}}$$

$$10.458 \overline{)51 \quad \underline{\hspace{2cm}}}$$

$$14.546 \overline{)96 \quad \underline{\hspace{2cm}}}$$

$$34.125 \overline{)45 \quad \underline{\hspace{2cm}}}$$

Resuelve las siguientes operaciones:



$$\begin{array}{r} 999,01 \\ + 31,64 \\ \hline \end{array}$$

$$\begin{array}{r} 67.218 \\ + 587 \\ \hline \end{array}$$

$$\begin{array}{r} 3.512 \\ + 87.490 \\ \hline \end{array}$$

$$\begin{array}{r} 8.475 \\ + 902 \\ \hline \end{array}$$

$$\begin{array}{r} 9.146 \\ - 5.609 \\ \hline \end{array}$$

$$\begin{array}{r} 4.933 \\ - 1.426 \\ \hline \end{array}$$

$$\begin{array}{r} 9.803 \\ - 8.066 \\ \hline \end{array}$$

$$\begin{array}{r} 483,1 \\ - 185,9 \\ \hline \end{array}$$

$$\begin{array}{r} 6.829 \\ \times 20 \\ \hline \end{array}$$

$$\begin{array}{r} 5.408 \\ \times 36 \\ \hline \end{array}$$

$$\begin{array}{r} 4.910 \\ \times 18 \\ \hline \end{array}$$

$$\begin{array}{r} 20.743 \\ \times 62 \\ \hline \end{array}$$

$$30.954 \overline{)8}$$

$$59.611 \overline{)8}$$

$$73.726 \overline{)6}$$

$$41.526 \overline{)99}$$


$$97.348 \overline{)48}$$

$$85.946 \overline{)36}$$


Completa:




x	4	5	6	1	2	10	9	3	7	8
5	20		30	5	10	50	45	15		40
1		5	6	1				3	7	
8	32			8		80	72	24		
3		15	18	3		30				24
10		50		10	20	100		30		
9		45	54		18				63	72
7	28		42		14	70				
6		30	36		12	60		18	42	
4		20				40	36	12	28	32
2				2		20	18		14	




1876



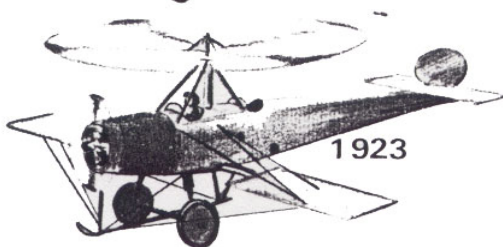
1903



1830




1896



1923




1937



1769



1783



1800

1.- De los inventos que tienes delante, ¿cuál es el más antiguo? ¿Y el más moderno?

2.- ¿Cuántos años pasaron desde que se inventó la radio hasta que se inventó el autogiro?

3.- ¿Cuántos años más antiguo es el invento del automóvil que el del aeroplano?

4.- ¿Cuántos años transcurrieron desde que se inventó la máquina de coser hasta que se inventó el televisor?

5.- ¿Qué se inventó antes, el teléfono o el globo? ¿Cuántos años antes?



6.- ¿Cuántos años más antiguo fue el invento de la pila eléctrica que el del aeroplano?

7.- ¿Cuántos años pasaron desde que se inventó el globo hasta nuestros días?

8.- De los inventos que tienes aquí, indica los dos más modernos y los dos más antiguos. ¿Qué diferencia de años hay de uno a otro?

9.- Ordena estas fechas de los grandes inventos de la más antigua a la más moderna?

10.- ¿Cuántos años hace que se inventó el teléfono?

11.- ¿Cuántos años hace que se inventó la televisión?

Resuelve las siguientes operaciones:



$$\begin{array}{r} 52.899 \\ + 901 \\ \hline \end{array}$$

$$\begin{array}{r} 2.235,1 \\ + 4.706,2 \\ \hline \end{array}$$

$$\begin{array}{r} 4,96 \\ + 357,15 \\ \hline \end{array}$$

$$\begin{array}{r} 842 \\ + 530 \\ \hline \end{array}$$

$$\begin{array}{r} 779,8 \\ - 719,1 \\ \hline \end{array}$$

$$\begin{array}{r} 571,9 \\ - 493,7 \\ \hline \end{array}$$

$$\begin{array}{r} 7.063 \\ - 5.138 \\ \hline \end{array}$$

$$\begin{array}{r} 980,9 \\ - 226,8 \\ \hline \end{array}$$

$$\begin{array}{r} 2.614 \\ \times 96 \\ \hline \end{array}$$

$$\begin{array}{r} 59.046 \\ \times 77 \\ \hline \end{array}$$

$$\begin{array}{r} 8.562 \\ \times 42 \\ \hline \end{array}$$

$$\begin{array}{r} 21.741 \\ \times 84 \\ \hline \end{array}$$

$$30.704 \overline{)73}$$

$$79.943 \overline{)58}$$

$$59.654 \overline{)34}$$

$$21.253 \overline{)73}$$

$$95.144 \overline{)70}$$

$$77.699 \overline{)22}$$



Calcula:

$$\frac{824}{1000} = \underline{\hspace{2cm}}$$

$$\frac{13}{100} = \underline{\hspace{2cm}}$$

$$\frac{520}{1000} = \underline{\hspace{2cm}}$$

$$\frac{9}{10} = \underline{\hspace{2cm}}$$

$$\frac{45}{1000} = \underline{\hspace{2cm}}$$

$$\frac{74}{100} = \underline{\hspace{2cm}}$$

$$\frac{30}{100} = \underline{\hspace{2cm}}$$

$$\frac{259}{1000} = \underline{\hspace{2cm}}$$

$$\frac{99}{100} = \underline{\hspace{2cm}}$$

$$\frac{86}{1000} = \underline{\hspace{2cm}}$$

$$\frac{417}{1000} = \underline{\hspace{2cm}}$$

$$\frac{52}{1000} = \underline{\hspace{2cm}}$$

$$\frac{198}{1000} = \underline{\hspace{2cm}}$$

$$\frac{681}{1000} = \underline{\hspace{2cm}}$$

$$\frac{40}{100} = \underline{\hspace{2cm}}$$

$$\frac{43}{100} = \underline{\hspace{2cm}}$$

$$\frac{17}{100} = \underline{\hspace{2cm}}$$

$$\frac{96}{100} = \underline{\hspace{2cm}}$$

$$\frac{160}{1000} = \underline{\hspace{2cm}}$$

$$\frac{281}{1000} = \underline{\hspace{2cm}}$$

Completa:

$$\text{LXII} = \underline{\hspace{2cm}}$$

$$\text{LVI} = \underline{\hspace{2cm}}$$

$$643 = \underline{\hspace{2cm}}$$

$$\text{LXXXVIII} = \underline{\hspace{2cm}}$$

$$\text{XLVI} = \underline{\hspace{2cm}}$$

$$498 = \underline{\hspace{2cm}}$$

$$\text{DCCXXXVI} = \underline{\hspace{2cm}}$$

$$264 = \underline{\hspace{2cm}}$$

Ordena de menor a mayor:

682,9
546,7
982,7
517,1
467,4
836,8

341,2
919,5
504,0
622,0
861,9
569,2

Completa:



1	x	3	5	6	8	1
	49					
	68					
	58					
	15					
	45					

2	x	20	80	44	55	7
	9					
	3					
	1					
	7					
	6					

¿Cuánto le falta para llegar a 10€?

①



②



③



④



Resuelve las siguientes operaciones:



$$\begin{array}{r} 87,2 \\ + 36,4 \\ \hline \end{array}$$

$$\begin{array}{r} 8.147 \\ + 3.822 \\ \hline \end{array}$$

$$\begin{array}{r} 959 \\ + 23.506 \\ \hline \end{array}$$

$$\begin{array}{r} 991,83 \\ + 40,08 \\ \hline \end{array}$$

$$\begin{array}{r} 579,4 \\ - 532,4 \\ \hline \end{array}$$

$$\begin{array}{r} 7.913 \\ - 3.520 \\ \hline \end{array}$$

$$\begin{array}{r} 865,6 \\ - 230,7 \\ \hline \end{array}$$

$$\begin{array}{r} 7.581 \\ - 4.203 \\ \hline \end{array}$$

$$\begin{array}{r} 70.524 \\ \times 86 \\ \hline \end{array}$$

$$\begin{array}{r} 2.855 \\ \times 14 \\ \hline \end{array}$$

$$\begin{array}{r} 88.071 \\ \times 51 \\ \hline \end{array}$$

$$\begin{array}{r} 8.125 \\ \times 40 \\ \hline \end{array}$$

$$33.000 \overline{)73}$$

$$28.318 \overline{)40}$$

$$92.349 \overline{)34}$$

$$99.196 \overline{)31}$$

$$73.110 \overline{)92}$$

$$22.966 \overline{)68}$$

4 ^º juego	44	36	28	57
3 ^{er} juego	85	72	38	29
2 ^º juego	76	39	78	75
1 ^{er} juego	56	80	93	51
	Carlos	Rosa	Pedro	Inés



1.- ¿Cuántos puntos hizo Inés en los cuatro juegos?

2.- ¿En que juego está la mayor puntuación y que niño la consiguió?

3.- ¿Cuántos puntos lograron los cuatro niños juntos en el tercer juego?

4.- ¿Qué niño obtiene 72 puntos y en qué juego?



5.- ¿Cuántos puntos hicieron en el 2º juego Rosa e Inés juntas?

6.- Rosa dice a Inés: "Las dos mejores puntuaciones mías suman más que las dos mejores tuyas". ¿Cuánto suman las puntuaciones de Rosa? ¿Es cierta su afirmación?


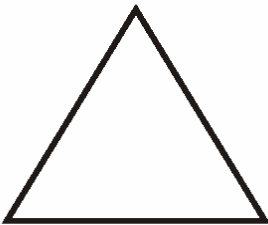
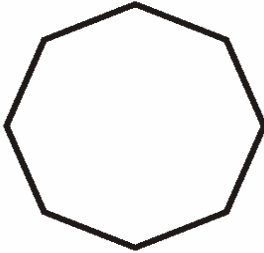
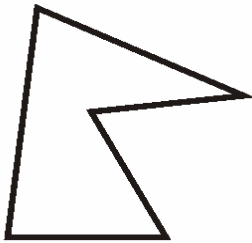
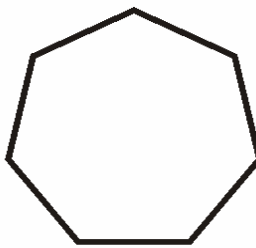
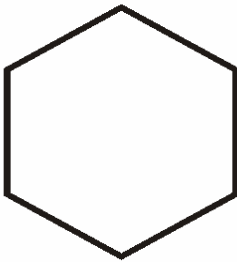



7.- De entre todos estos niños, ¿quién es el que ha obtenido más puntos y, por tanto, es el campeón?

8.- ¿En qué juego la suma de puntos es mayor? ¿A cuánto asciende la suma?

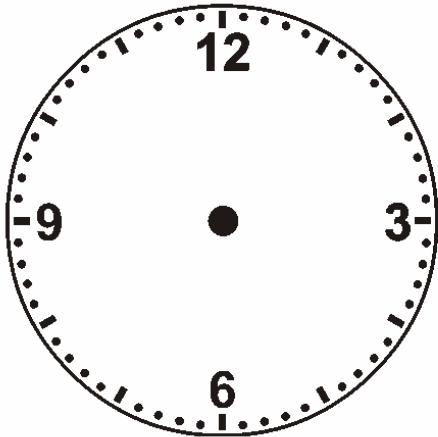
9.- ¿Cuántos puntos obtiene más Carlos que Rosa en los cuatro juegos?

10.- ¿Cuántos puntos consiguieron entre todos los niños en todos los juegos?

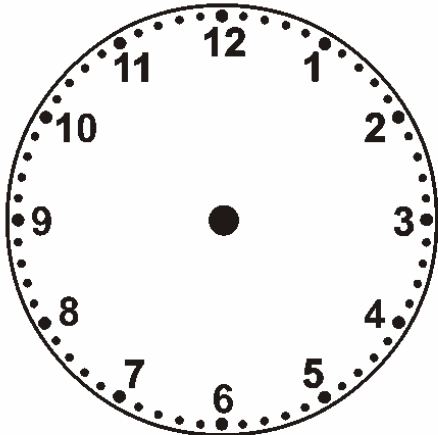
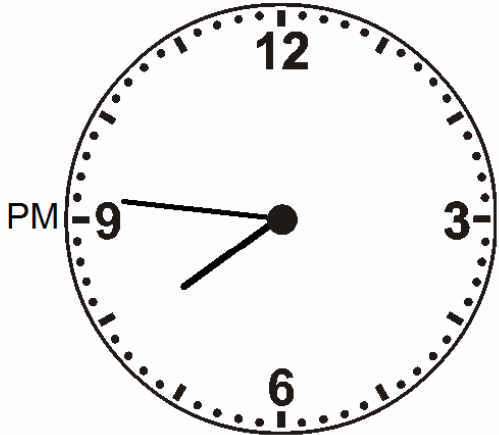

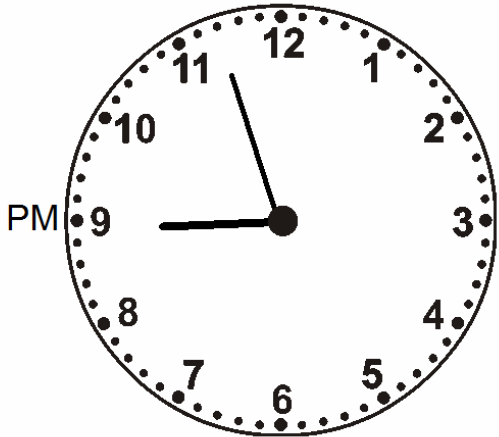
Escribe el nombre de los siguientes polígonos. Señala los vértices en azul, los lados en rojo y los ángulos en verde.




Completa los relojes y calcula cuánto falta para las 12 de la noche en cada uno de ellos:



23:21



02:41



08:31

Resuelve las siguientes operaciones:



$$\begin{array}{r} 80,9 \\ + 75,6 \\ \hline \end{array}$$

$$\begin{array}{r} 374 \\ + 2.940 \\ \hline \end{array}$$

$$\begin{array}{r} 831 \\ + 84.034 \\ \hline \end{array}$$

$$\begin{array}{r} 3.379,6 \\ + 541,9 \\ \hline \end{array}$$

$$\begin{array}{r} 222,0 \\ - 185,0 \\ \hline \end{array}$$

$$\begin{array}{r} 9.862 \\ - 3.727 \\ \hline \end{array}$$

$$\begin{array}{r} 2.964 \\ - 2.827 \\ \hline \end{array}$$

$$\begin{array}{r} 6.095 \\ - 1.030 \\ \hline \end{array}$$

$$\begin{array}{r} 81.565 \\ \times 24 \\ \hline \end{array}$$

$$\begin{array}{r} 76.183 \\ \times 87 \\ \hline \end{array}$$

$$\begin{array}{r} 77.737 \\ \times 44 \\ \hline \end{array}$$

$$\begin{array}{r} 98.125 \\ \times 50 \\ \hline \end{array}$$

$$98.503 \overline{)42}$$

$$78.306 \overline{)80}$$

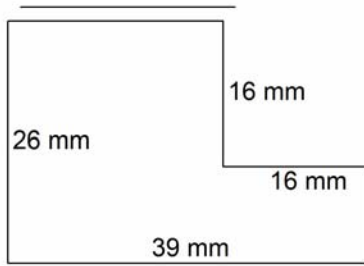
$$70.542 \overline{)92}$$

$$50.442 \overline{)74}$$

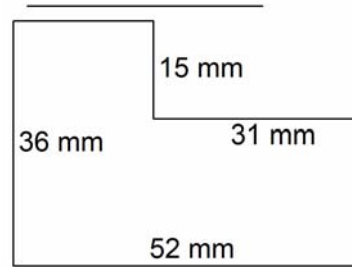
$$16.539 \overline{)16}$$

$$72.648 \overline{)94}$$

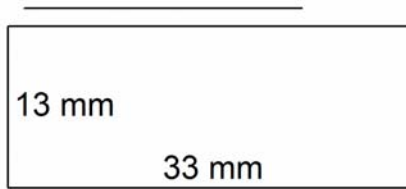
Calcula el perímetro de estas figuras:



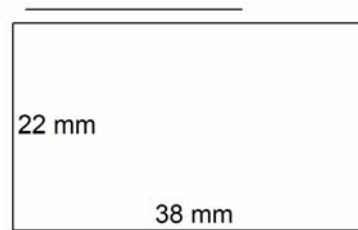
Solución: _____



Solución: _____



Solución: _____



Solución: _____

Completa:

① 29 cg = _____ dg ② 85 dg = _____ g

③ 15 mm = _____ cm ④ 31 mm = _____ cm

⑤ 90 hg = _____ kg ⑥ 82 cg = _____ hg

⑦ 66 dg = _____ dag ⑧ 34 mm = _____ cm

⑨ 36 dag = _____ kg ⑩ 54 mg = _____ cg

⑪ 71 mg = _____ cg ⑫ 44 mm = _____ cm



Escribe el valor de posición de la cifra señalada:

$8.\underline{5}41 = \underline{\hspace{2cm}}$

$\underline{3}5,2 = \underline{\hspace{2cm}}$

$3,\underline{1}6 = \underline{\hspace{2cm}}$

$8\underline{4}9,3 = \underline{\hspace{2cm}}$

$2\underline{1}6 = \underline{\hspace{2cm}}$

$\underline{7}.162 = \underline{\hspace{2cm}}$

$79.\underline{5}97 = \underline{\hspace{2cm}}$

$\underline{1}26,4 = \underline{\hspace{2cm}}$

$\underline{7}11 = \underline{\hspace{2cm}}$

$\underline{2}33,8 = \underline{\hspace{2cm}}$

Completa:

³	×	7	4	6	2	9
2						
85						
34						
62						
48						

⁴	×	100	100	100	100	100
581						
859						
960						
493						
441						

Resuelve:

Una granja tiene 3 gallineros con 87 gallinas cada uno. Vamos a ponerlas en jaulas de 9 gallinas para llevarlas a la granja nueva y queremos saber cuántas jaulas necesitaremos.



Ordena de menor a mayor:

124,8	402,8
173,9	223,4
561,5	986,0
412,3	890,6
972,9	851,6
204,5	225,0

Continúa las series:

99, 93, 87, 81, 75, 69, 63, __ , __

40, 43, 41, 45, 43, 48, 46, __ , __

1, 2, 4, 8, 10, 20, 22, __ , __

6, 8, 12, 18, 26, 36, 48, __ , __

Completa:

CCXXIX= _____

DCCCXLV= _____

LXXVIII= _____

392 = _____

LIX = _____

DCLXVIII= _____

DCCCXXVI= _____

XCVIII= _____

XLIX = _____

XXII= _____

Resuelve las siguientes operaciones:



$$\begin{array}{r} 432 \\ + 65.112 \\ \hline \end{array}$$

$$\begin{array}{r} 8,32 \\ + 5,02 \\ \hline \end{array}$$

$$\begin{array}{r} 1.998 \\ + 7.586 \\ \hline \end{array}$$

$$\begin{array}{r} 10,78 \\ + 5,89 \\ \hline \end{array}$$

$$\begin{array}{r} 7.650 \\ - 4.008 \\ \hline \end{array}$$

$$\begin{array}{r} 267,4 \\ - 236,7 \\ \hline \end{array}$$

$$\begin{array}{r} 574,6 \\ - 458,8 \\ \hline \end{array}$$

$$\begin{array}{r} 186,7 \\ - 150,0 \\ \hline \end{array}$$

$$\begin{array}{r} 36.804 \\ \times 57 \\ \hline \end{array}$$

$$\begin{array}{r} 90.719 \\ \times 23 \\ \hline \end{array}$$

$$\begin{array}{r} 9.997 \\ \times 46 \\ \hline \end{array}$$

$$\begin{array}{r} 1.565 \\ \times 73 \\ \hline \end{array}$$

$$74.059 \overline{)73}$$

$$90.603 \overline{)29}$$

$$77.237 \overline{)40}$$

$$49.653 \overline{)20}$$

$$16.680 \overline{)15}$$

$$25.141 \overline{)21}$$

Resuelve los siguientes crucigramas:



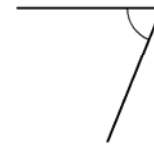
1

34	-	34	+	48	=	
-		+		-		+
34	+	21	-	16	=	
+		-		+		+
34	-	1	+	11	=	
=		=		=		=
	+		+		=	

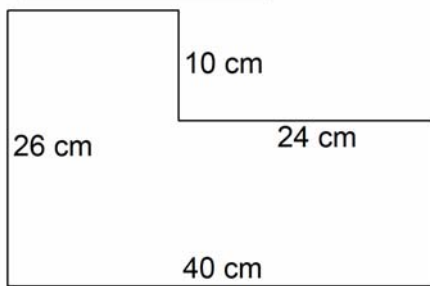
2

17	-	11	+	18	=	
-		+		-		+
11	+	16	-	3	=	
+		-		+		+
15	-	5	+	14	=	
=		=		=		=
	+		+		=	

Con ayuda de un transportador mide los siguientes ángulos:



Calcula el perímetro en dm de la siguiente figura:



Solución: _____ dm.



Representa cada fracción:

$\frac{1}{3}$



$\frac{2}{6}$



$\frac{3}{5}$



$\frac{7}{10}$



Calcula el decimal correspondiente a cada una de las siguientes fracciones:

$$\frac{836}{1000} = \underline{\hspace{2cm}}$$

$$\frac{927}{1000} = \underline{\hspace{2cm}}$$

$$\frac{43}{100} = \underline{\hspace{2cm}}$$

$$\frac{94}{100} = \underline{\hspace{2cm}}$$

$$\frac{20}{100} = \underline{\hspace{2cm}}$$

$$\frac{15}{100} = \underline{\hspace{2cm}}$$

$$\frac{69}{100} = \underline{\hspace{2cm}}$$

$$\frac{707}{1000} = \underline{\hspace{2cm}}$$

$$\frac{792}{1000} = \underline{\hspace{2cm}}$$

$$\frac{453}{1000} = \underline{\hspace{2cm}}$$

$$\frac{1}{10} = \underline{\hspace{2cm}}$$

$$\frac{593}{1000} = \underline{\hspace{2cm}}$$

$$\frac{55}{100} = \underline{\hspace{2cm}}$$

$$\frac{93}{100} = \underline{\hspace{2cm}}$$

$$\frac{895}{1000} = \underline{\hspace{2cm}}$$

$$\frac{7}{100} = \underline{\hspace{2cm}}$$

Escribe cómo se leen las siguientes fracciones:

$\frac{1}{4}$ →

$\frac{2}{6}$ →

$\frac{3}{7}$ →

$\frac{2}{10}$ →

$\frac{4}{9}$ →

$\frac{4}{5}$ →

Escribe la fracción:

Un medio: _____

Seis novenos: _____

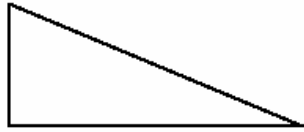
Un Tercio: _____

Tres sextos: _____

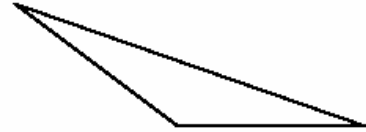
Dos quintos: _____

Un octavo: _____

Clasifica los siguientes triángulos según sus ángulos:







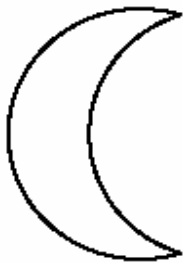
Dibuja:

Dos rectas que sean paralelas:

Dos rectas secantes:

Dos rectas perpendiculares:

Una figura simétrica a ésta según el eje de simetría trazado:



Calcula:

$$8 \times \text{-----} = 64$$

$$7 \times \text{-----} = 63$$

$$6 \times \text{-----} = 42$$

$$9 \times \text{-----} = 36$$

$$\text{-----} \times 5 = 45$$

$$\text{-----} \times 7 = 56$$

$$\text{-----} \times 6 = 18$$

$$\text{-----} \times 9 = 72$$

$$9 \times \text{-----} = 81$$

$$6 \times \text{-----} = 54$$

$$7 \times \text{-----} = 56$$

$$8 \times \text{-----} = 32$$

Resuelve las siguientes operaciones:

$$\begin{array}{r} 5.488,9 \\ + 8.708,5 \\ \hline \end{array}$$

$$\begin{array}{r} 5,68 \\ + 594,25 \\ \hline \end{array}$$

$$\begin{array}{r} 88,7 \\ + 404,0 \\ \hline \end{array}$$

$$\begin{array}{r} 653,16 \\ + 28,95 \\ \hline \end{array}$$

$$\begin{array}{r} 4.008 \\ - 2.983 \\ \hline \end{array}$$

$$\begin{array}{r} 645,1 \\ - 554,8 \\ \hline \end{array}$$

$$\begin{array}{r} 602,7 \\ - 230,4 \\ \hline \end{array}$$

$$\begin{array}{r} 893,9 \\ - 241,9 \\ \hline \end{array}$$

$$\begin{array}{r} 47.880 \\ \times 45 \\ \hline \end{array}$$

$$\begin{array}{r} 56.524 \\ \times 28 \\ \hline \end{array}$$

$$\begin{array}{r} 9.623 \\ \times 31 \\ \hline \end{array}$$

$$\begin{array}{r} 48.012 \\ \times 48 \\ \hline \end{array}$$

$$31.462 \overline{)70}$$

$$95.037 \overline{)89}$$

$$2.330 \overline{)35}$$

$$4.737 \overline{)60}$$

$$96.199 \overline{)75}$$

$$8.556 \overline{)40}$$



1.- Un pastel me cuesta 27 céntimos de euro y una bebida 35 céntimos de euro. Si pago con 70 céntimos de euro., ¿cuántos céntimos de euro me tienen que dar de vuelta?

2.- A Eduardo le han regalado 60 céntimos de euro el jueves, 58 el viernes y 84 el sábado; ¿cuánto céntimos de euro ha juntado entre los tres días?

3.- A Luis le ha mandado su madre a la tienda con 90 céntimos de euro.. En la factura que le ha entregado la dueña de la tienda están escritas estas cantidades: 5, 23, 27, 32. ¿Cuántos céntimos de euro deben darle de vuelta?

4.- Rosa quiere comprarse una blusa y una falda. Tiene 23 € y le faltan 12. ¿Cuánto cuestan la blusa y la falda juntas?

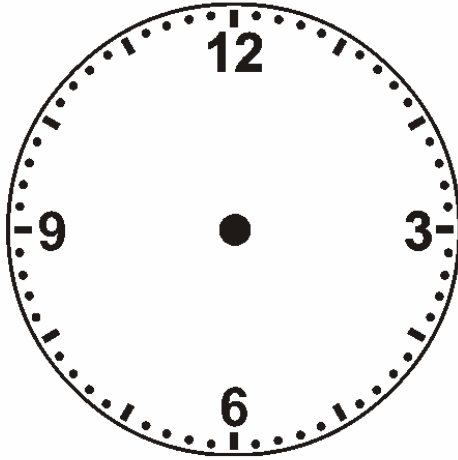
5.- Por la camiseta, el pantalón, las medias y las botas de fútbol me cobran 62 euros. Si entrego para pagar 70 euros., ¿cuántos euros me sobran?

6.- Con ocasión del cumpleaños de papá, tres hermanos han juntado el dinero de sus huchas. Si el regalo ha costado 225 euros y les han sobrado 12 euros., ¿cuál fue la cantidad juntada?

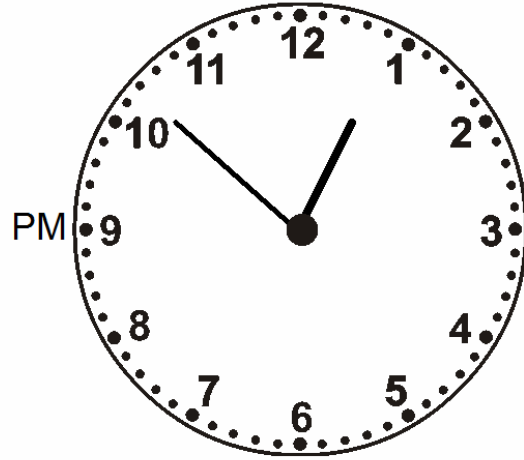
7.- María acompaña a su madre a la compra. La madre ha entregado 300 euros. y le han devuelto 29. María repasa la factura, $28+46+128+39+20=271$, y dice a su mamá: "Mamá te han cobrado 10 euros de más". ¿Tiene razón la niña?


8.- José ha visto en un escaparate tres cosas que le gustaría comprar: un balón por 35 €, unas raquetas de tenis por 47 € y unas zapatillas de deporte por 60 €. Dispone de 100 €. ¿Qué compras puede hacer? Elige tú las compras y di cuántos euros te sobran ...

Completa:

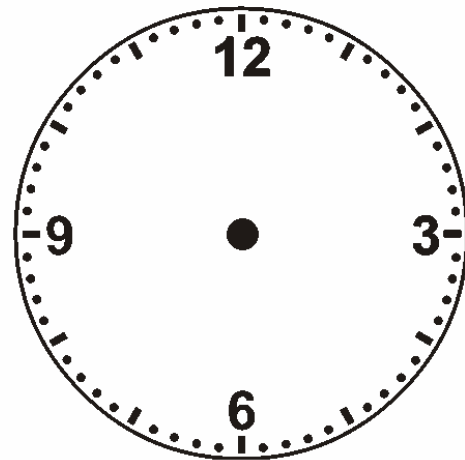


06:21

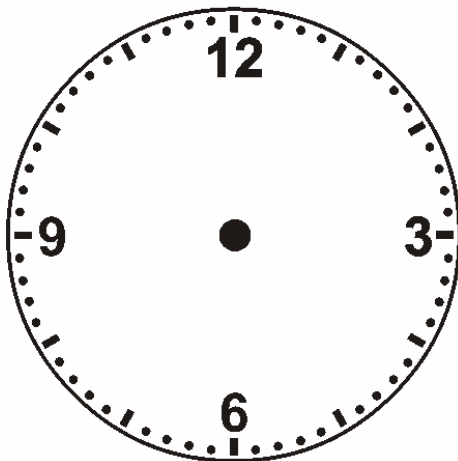




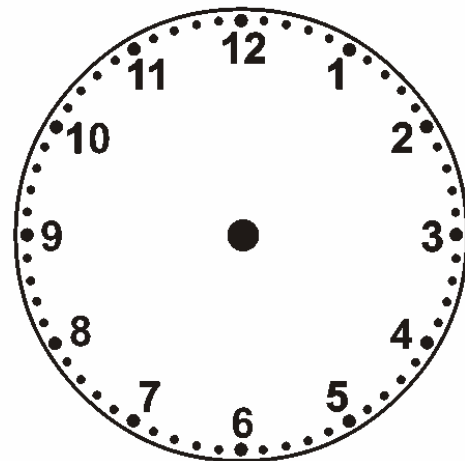
03:26



12:24



23:40



18:17

Resuelve las siguientes operaciones:

$$\begin{array}{r} 478,5 \\ + 48,0 \\ \hline \end{array}$$

$$\begin{array}{r} 5.473 \\ + 3.189 \\ \hline \end{array}$$

$$\begin{array}{r} 9.253,5 \\ + 1.527,4 \\ \hline \end{array}$$

$$\begin{array}{r} 664 \\ + 49.258 \\ \hline \end{array}$$

$$\begin{array}{r} 924,0 \\ - 753,1 \\ \hline \end{array}$$

$$\begin{array}{r} 479,5 \\ - 238,5 \\ \hline \end{array}$$

$$\begin{array}{r} 8.190 \\ - 6.282 \\ \hline \end{array}$$

$$\begin{array}{r} 213,5 \\ - 200,3 \\ \hline \end{array}$$

$$\begin{array}{r} 94.195 \\ \times 86 \\ \hline \end{array}$$

$$\begin{array}{r} 85.033 \\ \times 61 \\ \hline \end{array}$$

$$\begin{array}{r} 24.786 \\ \times 62 \\ \hline \end{array}$$

$$\begin{array}{r} 85.262 \\ \times 23 \\ \hline \end{array}$$

$$23.660 \overline{)22}$$

$$28.232 \overline{)89}$$

$$78.474 \overline{)45}$$

$$98.425 \overline{)91}$$

$$98.074 \overline{)68}$$

$$20.216 \overline{)68}$$

Calcula la mitad:

$20 = \dots\dots\dots$

$24 = \dots\dots\dots$

$88 = \dots\dots\dots$

$18 = \dots\dots\dots$

$32 = \dots\dots\dots$

$44 = \dots\dots\dots$

$16 = \dots\dots\dots$

$60 = \dots\dots\dots$

$28 = \dots\dots\dots$

$14 = \dots\dots\dots$

$48 = \dots\dots\dots$

$100 = \dots\dots\dots$

$22 = \dots\dots\dots$

$36 = \dots\dots\dots$

$120 = \dots\dots\dots$

$14 = \dots\dots\dots$

$50 = \dots\dots\dots$

$130 = \dots\dots\dots$

Calcula el triple:

$18 = \dots\dots\dots$

$120 = \dots\dots\dots$

$150 = \dots\dots\dots$

$21 = \dots\dots\dots$

$9 = \dots\dots\dots$

$180 = \dots\dots\dots$

$30 = \dots\dots\dots$

$15 = \dots\dots\dots$

$27 = \dots\dots\dots$

$45 = \dots\dots\dots$

$60 = \dots\dots\dots$

$96 = \dots\dots\dots$

$90 = \dots\dots\dots$

$300 = \dots\dots\dots$

$33 = \dots\dots\dots$

$66 = \dots\dots\dots$

$24 = \dots\dots\dots$

$900 = \dots\dots\dots$

Resuelve:

Bruno ha recorrido 12 Km. Si le quedan tres tramos de 42 Km. cada uno, ¿cuántos Km. recorre?

Una persona compra 35 rotuladores a 25 céntimos cada uno y 35 céntimos a 15 céntimos cada uno. Paga con dos billetes de 10€ ¿Cuánto le devolvieron?.

Una rosa vale 1 euro con 50 céntimos. ¿Cuánto me costará media docena de rosas?

Completa:

LXII = _____

LVI = _____

643 = _____

LXXXVIII = _____

XLVI = _____

498 = _____

DCCXXXVI = _____

264 = _____

74 = _____

XXXVI = _____

Escribe el valor de posición de las cifras subrayadas:

32,75 = _____

7,96 = _____

4,38 = _____

64,7 = _____

51,9 = _____

625,61 = _____

535 = _____

59.573 = _____

4.975,1 = _____

244,98 = _____

Completa:


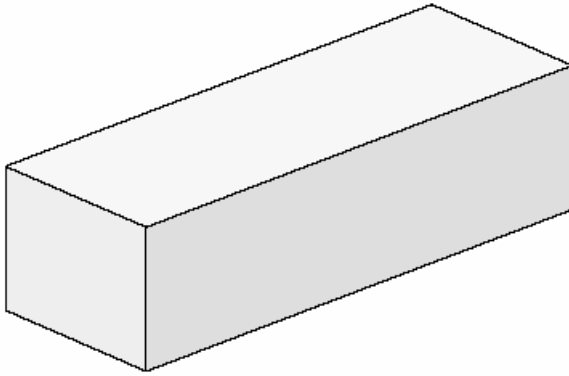
¹³ 65 mm = _____ cm ¹⁴ 86 mm = _____ cm

¹⁵ 33 g = _____ kg ¹⁶ 11 dag = _____ kg

¹⁷ 93 g = _____ dag ¹⁸ 73 g = _____ kg

¹⁹ 94 mm = _____ cm ²⁰ 35 g = _____ hg

Señala los elementos de los siguientes cuerpos geométricos y escribe su nombre:



Calcula el perímetro de las siguientes figuras y exprésalo en dm:

- Un Octógono regular que mide 22 cm de lado:

Solución: _____ dm

- Un pentágono que mide 328 mm de un vértice a otro consecutivo

Solución: _____ dm

- Un rombo cuyo lado mide el doble que el lado del octógono:

Solución: _____ dm

Dibuja una circunferencia de 3cm de diámetro:

Resuelve las siguientes operaciones:

$$\begin{array}{r} 5.165 \\ + 1.304 \\ \hline \end{array}$$

$$\begin{array}{r} 17,36 \\ + 2,88 \\ \hline \end{array}$$

$$\begin{array}{r} 71.753 \\ + 6.987 \\ \hline \end{array}$$

$$\begin{array}{r} 6.951,6 \\ + 93,8 \\ \hline \end{array}$$

$$\begin{array}{r} 686,1 \\ - 637,9 \\ \hline \end{array}$$

$$\begin{array}{r} 128,3 \\ - 121,7 \\ \hline \end{array}$$

$$\begin{array}{r} 7.820 \\ - 7.207 \\ \hline \end{array}$$

$$\begin{array}{r} 826,9 \\ - 681,1 \\ \hline \end{array}$$

$$\begin{array}{r} 50.482 \\ \times 32 \\ \hline \end{array}$$

$$\begin{array}{r} 73.111 \\ \times 44 \\ \hline \end{array}$$

$$\begin{array}{r} 69.623 \\ \times 63 \\ \hline \end{array}$$

$$\begin{array}{r} 3.748 \\ \times 72 \\ \hline \end{array}$$

$$55.411 \overline{)68} \underline{\hspace{1cm}}$$

$$45.419 \overline{)24} \underline{\hspace{1cm}}$$

$$68.802 \overline{)74} \underline{\hspace{1cm}}$$

$$12.692 \overline{)71} \underline{\hspace{1cm}}$$

$$65.572 \overline{)50} \underline{\hspace{1cm}}$$

$$75.323 \overline{)76} \underline{\hspace{1cm}}$$

Ordena de mayor a menor:

789,8
892,0
563,7
328,5
637,1
499,0

756,3
737,5
949,7
445,1
717,7
155,4

Sigue las siguientes series:

25, 31, 37, 43, 49, 55, 61, __ , __

84, 80, 76, 72, 68, 64, 60, __ , __

99, 92, 85, 78, 71, 64, 57, __ , __

34, 37, 40, 44, 47, 52, 55, __ , __

80, 72, 64, 56, 48, 40, 32, __ , __

Completa los siguientes crucigramas:

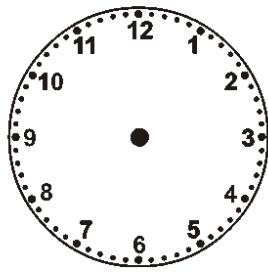
3

16	-	4	+	18	=	
-		+		-		+
4	+	14	-	10	=	
+		-		+		+
2	-	4	+	19	=	
=		=		=		=
	+		+		=	

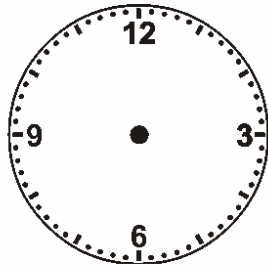


4

22	-	22	+	29	=	
-		+		-		+
22	+	23	-	8	=	
+		-		+		+
1	-	9	+	30	=	
=		=		=		=
	+		+		=	

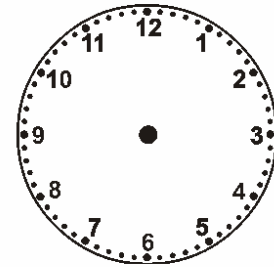
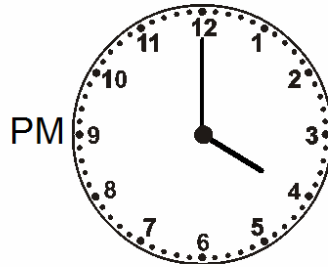
Completa los siguientes relojes:



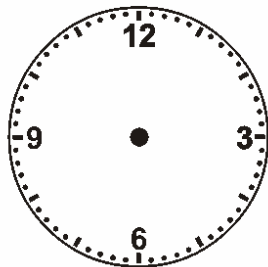
03:00



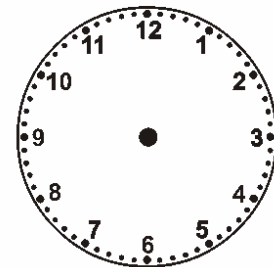
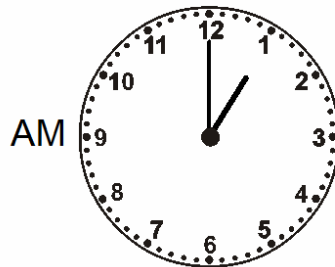
12:00



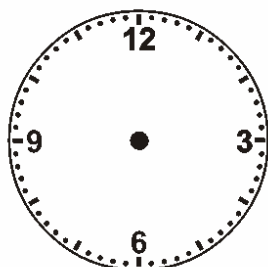
02:00



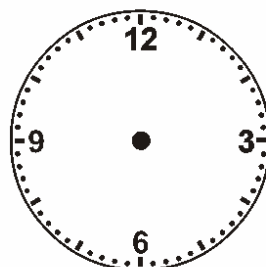
06:00



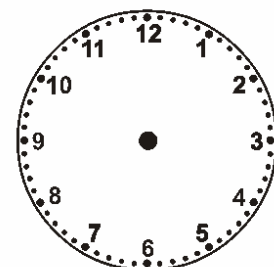
00:00



17:00



14:00



23:00

1.- En una jaula del zoo hay 69 monos. Si venden 4 y nacen 16. ¿Cuántos monos hay ahora en la jaula?

2.- En un árbol había posados 75 pájaros. Se marcharon 36 y luego llegaron 47. ¿Cuántos pájaros hay ahora posados en el árbol?

3.- Monté en el ascensor en el 2º piso. Subí 5 pisos y luego bajé 3 pisos. A continuación subí 8 pisos y, por fin, bajé 2. ¿En que piso me encuentro?

4.- En un bosque de 15.750 árboles se han quemado 7.985 árboles. Si después se han plantado 8.560 árboles, ¿cuántos árboles hay ahora en el bosque?

5.- Juan tiene 3.469 sellos; Alberto, 2.587, y Felipe, 12.886. ¿Cuántos sellos tienen entre los tres? ¿Cuántos sellos tiene más Felipe que Juan?

Resuelve las siguientes operaciones:



$$\begin{array}{r} 75,7 \\ + 5.661,5 \\ \hline \end{array}$$

$$\begin{array}{r} 38,7 \\ + 72,8 \\ \hline \end{array}$$

$$\begin{array}{r} 9.412,2 \\ + 2.526,5 \\ \hline \end{array}$$

$$\begin{array}{r} 61,3 \\ + 66,9 \\ \hline \end{array}$$

$$\begin{array}{r} 462,8 \\ - 300,1 \\ \hline \end{array}$$

$$\begin{array}{r} 633,0 \\ - 220,3 \\ \hline \end{array}$$

$$\begin{array}{r} 1.205 \\ - 1.108 \\ \hline \end{array}$$

$$\begin{array}{r} 320,2 \\ - 313,1 \\ \hline \end{array}$$

$$\begin{array}{r} 6.594 \\ \times 85 \\ \hline \end{array}$$

$$\begin{array}{r} 5.363 \\ \times 29 \\ \hline \end{array}$$

$$\begin{array}{r} 4.730 \\ \times 22 \\ \hline \end{array}$$

$$\begin{array}{r} 75.014 \\ \times 34 \\ \hline \end{array}$$

$$21.019 \overline{)44}$$

$$14.477 \overline{)17}$$

$$29.551 \overline{)65}$$


$$52.180 \overline{)33}$$

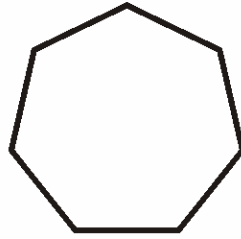
$$57.184 \overline{)41}$$

$$9.815 \overline{)29}$$




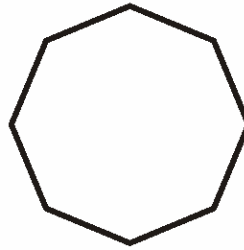
Escribe el nombre de los siguientes polígonos. Señala los vértices en azul, los lados en rojo y los ángulos en verde.
















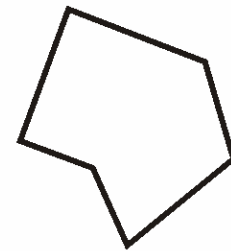














Completa:

⑤ $90 \text{ hg} = \underline{\hspace{2cm}} \text{ kg}$ ⑥ $82 \text{ cg} = \underline{\hspace{2cm}} \text{ hg}$

⑦ $66 \text{ dg} = \underline{\hspace{2cm}} \text{ dag}$ ⑧ $34 \text{ mm} = \underline{\hspace{2cm}} \text{ cm}$

⑨ $36 \text{ dag} = \underline{\hspace{2cm}} \text{ kg}$ ⑩ $54 \text{ mg} = \underline{\hspace{2cm}} \text{ cg}$

① $57 \text{ dam} = \underline{\hspace{2cm}} \text{ hm}$ ② $82 \text{ m} = \underline{\hspace{2cm}} \text{ hm}$

③ $50 \text{ dm} = \underline{\hspace{2cm}} \text{ dam}$ ④ $80 \text{ hm} = \underline{\hspace{2cm}} \text{ km}$

⑤ $71 \text{ hm} = \underline{\hspace{2cm}} \text{ km}$ ⑥ $76 \text{ m} = \underline{\hspace{2cm}} \text{ km}$

⑦ $85 \text{ hm} = \underline{\hspace{2cm}} \text{ km}$ ⑧ $58 \text{ mm} = \underline{\hspace{2cm}} \text{ dm}$

⑨ $92 \text{ m} = \underline{\hspace{2cm}} \text{ km}$ ⑩ $94 \text{ m} = \underline{\hspace{2cm}} \text{ dam}$

Completa:

$74 = \underline{\hspace{2cm}}$

$XXXVI = \underline{\hspace{2cm}}$

$CCXXIX = \underline{\hspace{2cm}}$

$DCCCXLV = \underline{\hspace{2cm}}$

$LXXVIII = \underline{\hspace{2cm}}$

$392 = \underline{\hspace{2cm}}$

$LIX = \underline{\hspace{2cm}}$

$DCLXVIII = \underline{\hspace{2cm}}$



Estas son las monedas y billetes de uso legal en España y países de la Unión Europea de la zona euro.

1.- ¿Por cuántas monedas de 5 céntimos de euro. cambiarías una moneda de 50? ¿Y una de 20?

2.- ¿Qué vale más, un billete de 200 € o 50 monedas de 2 €, 3 billetes de 20 € y 3 €?

3.- Un billete de 500 €, por cuántos billetes de 100 € los puedes cambiar sin ganar ni perder?

4.- ¿Un billete de 500 € vale más o menos que 4 billetes de 100 y 25 monedas de 2 €?

5.- ¿Cuántas billetes de 5 € valen lo mismo que un billete de 20 €?

6.- Compras por valor de 85 céntimos de euro y pagas con 2 monedas de 50 céntimos de euro. ¿Cuántos céntimos de euro tienen que darte de vuelta? Si te dan de vuelta una moneda de 20 céntimos de euro, que moneda debes dar tú para que el resultado sea correcto?

Completa:



1

×	3	5	6	8	1
49					
68					
58					
15					
45					

2

×	20	80	44	55	7
9					
3					
1					
7					
6					

3

×	7	4	6	2	9
2					
85					
34					
62					
48					

4

×	100	100	100	100	100
581					
859					
960					
493					
441					

643 = _____

LXXXVIII = _____

XLVI = _____

498 = _____

DCCXXXVI = _____

264 = _____



Resuelve las siguientes operaciones:

$$\begin{array}{r} 500 \\ + 60.275 \\ \hline \end{array}$$

$$\begin{array}{r} 8.174 \\ + 491 \\ \hline \end{array}$$

$$\begin{array}{r} 5,85 \\ + 3,64 \\ \hline \end{array}$$

$$\begin{array}{r} 938,0 \\ + 883,2 \\ \hline \end{array}$$

$$\begin{array}{r} 983,4 \\ - 344,2 \\ \hline \end{array}$$

$$\begin{array}{r} 912,4 \\ - 359,7 \\ \hline \end{array}$$

$$\begin{array}{r} 6.411 \\ - 5.206 \\ \hline \end{array}$$

$$\begin{array}{r} 3.075 \\ - 2.344 \\ \hline \end{array}$$

$$\begin{array}{r} 1.263 \\ \times 21 \\ \hline \end{array}$$

$$\begin{array}{r} 65.649 \\ \times 89 \\ \hline \end{array}$$

$$\begin{array}{r} 75.421 \\ \times 42 \\ \hline \end{array}$$

$$\begin{array}{r} 4.043 \\ \times 36 \\ \hline \end{array}$$

$$90.046 \overline{)39}$$

$$50.626 \overline{)70}$$

$$84.872 \overline{)46}$$

$$36.217 \overline{)73}$$

$$18.507 \overline{)98}$$

$$71.049 \overline{)29}$$

Resuelve las siguientes operaciones:



$$\begin{array}{r} 540,57 \\ + 541,26 \\ \hline \end{array}$$

$$\begin{array}{r} 1,51 \\ + 81,11 \\ \hline \end{array}$$

$$\begin{array}{r} 1.713 \\ + 91.280 \\ \hline \end{array}$$

$$\begin{array}{r} 32,6 \\ + 21,1 \\ \hline \end{array}$$

$$\begin{array}{r} 1.915 \\ - 1.899 \\ \hline \end{array}$$

$$\begin{array}{r} 468,6 \\ - 355,9 \\ \hline \end{array}$$

$$\begin{array}{r} 9.709 \\ - 9.153 \\ \hline \end{array}$$

$$\begin{array}{r} 949,8 \\ - 229,5 \\ \hline \end{array}$$

$$\begin{array}{r} 7.701 \\ \times 125 \\ \hline \end{array}$$

$$\begin{array}{r} 1.490 \\ \times 254 \\ \hline \end{array}$$

$$\begin{array}{r} 70.553 \\ \times 319 \\ \hline \end{array}$$

$$\begin{array}{r} 50.071 \\ \times 749 \\ \hline \end{array}$$

$$63.612 \overline{)494}$$

$$56.833 \overline{)438}$$

$$83.270 \overline{)274}$$

$$35.929 \overline{)782}$$

$$84.029 \overline{)519}$$

$$99.113 \overline{)845}$$

Realiza las siguientes operaciones:



$$\begin{array}{r} 847,68 \\ + 74,95 \\ \hline \end{array}$$

$$\begin{array}{r} 83,4 \\ + 700,0 \\ \hline \end{array}$$

$$\begin{array}{r} 56,3 \\ + 3.277,9 \\ \hline \end{array}$$

$$\begin{array}{r} 25,66 \\ + 51,24 \\ \hline \end{array}$$

$$\begin{array}{r} 220,7 \\ - 105,5 \\ \hline \end{array}$$

$$\begin{array}{r} 3.861 \\ - 3.132 \\ \hline \end{array}$$

$$\begin{array}{r} 353,1 \\ - 229,3 \\ \hline \end{array}$$

$$\begin{array}{r} 6.164 \\ - 4.025 \\ \hline \end{array}$$

$$\begin{array}{r} 8.774 \\ \times 641 \\ \hline \end{array}$$

$$\begin{array}{r} 88.748 \\ \times 750 \\ \hline \end{array}$$

$$\begin{array}{r} 3.207 \\ \times 413 \\ \hline \end{array}$$

$$\begin{array}{r} 4.853 \\ \times 992 \\ \hline \end{array}$$

$$95.907 \overline{)360}$$

$$4.928 \overline{)383}$$

$$63.846 \overline{)741}$$

$$45.589 \overline{)292}$$

$$95.208 \overline{)370}$$

$$7.482 \overline{)356}$$

Realiza las siguientes operaciones:



$$\begin{array}{r} 9.743,6 \\ + 953,1 \\ \hline \end{array}$$

$$\begin{array}{r} 254,3 \\ + 82,0 \\ \hline \end{array}$$

$$\begin{array}{r} 4.298,0 \\ + 4.389,3 \\ \hline \end{array}$$

$$\begin{array}{r} 143,81 \\ + 58,92 \\ \hline \end{array}$$

$$\begin{array}{r} 3.855 \\ - 3.406 \\ \hline \end{array}$$

$$\begin{array}{r} 6.706 \\ - 6.040 \\ \hline \end{array}$$

$$\begin{array}{r} 2.918 \\ - 1.467 \\ \hline \end{array}$$

$$\begin{array}{r} 949,5 \\ - 594,2 \\ \hline \end{array}$$

$$\begin{array}{r} 18.962 \\ \times 544 \\ \hline \end{array}$$

$$\begin{array}{r} 22.127 \\ \times 420 \\ \hline \end{array}$$

$$\begin{array}{r} 2.326 \\ \times 382 \\ \hline \end{array}$$

$$\begin{array}{r} 72.773 \\ \times 248 \\ \hline \end{array}$$

$$14.279 \overline{)670}$$

$$12.664 \overline{)598}$$

$$5.763 \overline{)828}$$

$$73.367 \overline{)830}$$

$$70.291 \overline{)944}$$

$$42.490 \overline{)204}$$

Realiza las siguientes operaciones:



$$\begin{array}{r} 971,34 \\ + 615,32 \\ \hline \end{array}$$

$$\begin{array}{r} 4.185 \\ + 13.906 \\ \hline \end{array}$$

$$\begin{array}{r} 9,26 \\ + 83,02 \\ \hline \end{array}$$

$$\begin{array}{r} 254 \\ + 50.156 \\ \hline \end{array}$$

$$\begin{array}{r} 731,6 \\ - 121,3 \\ \hline \end{array}$$

$$\begin{array}{r} 676,0 \\ - 375,5 \\ \hline \end{array}$$

$$\begin{array}{r} 7.242 \\ - 2.859 \\ \hline \end{array}$$

$$\begin{array}{r} 6.075 \\ - 3.040 \\ \hline \end{array}$$

$$\begin{array}{r} 26.632 \\ \times 864 \\ \hline \end{array}$$

$$\begin{array}{r} 4.028 \\ \times 800 \\ \hline \end{array}$$

$$\begin{array}{r} 77.456 \\ \times 467 \\ \hline \end{array}$$

$$\begin{array}{r} 8.307 \\ \times 166 \\ \hline \end{array}$$

$$84.028 \overline{)891}$$

$$93.486 \overline{)867}$$

$$80.838 \overline{)797}$$

$$30.211 \overline{)754}$$

$$66.592 \overline{)452}$$

$$42.818 \overline{)328}$$

Resuelve las siguientes operaciones:



$$\begin{array}{r} 225 \\ + 44.143 \\ \hline \end{array}$$

$$\begin{array}{r} 679,4 \\ + 98,3 \\ \hline \end{array}$$

$$\begin{array}{r} 913 \\ + 33.018 \\ \hline \end{array}$$

$$\begin{array}{r} 8.252 \\ + 65.039 \\ \hline \end{array}$$

$$\begin{array}{r} 340,1 \\ - 271,5 \\ \hline \end{array}$$

$$\begin{array}{r} 108,7 \\ - 107,4 \\ \hline \end{array}$$

$$\begin{array}{r} 9.297 \\ - 3.534 \\ \hline \end{array}$$

$$\begin{array}{r} 2.084 \\ - 1.276 \\ \hline \end{array}$$

$$\begin{array}{r} 58.865 \\ \times 156 \\ \hline \end{array}$$

$$\begin{array}{r} 80.813 \\ \times 950 \\ \hline \end{array}$$

$$\begin{array}{r} 7.599 \\ \times 236 \\ \hline \end{array}$$

$$\begin{array}{r} 4.282 \\ \times 820 \\ \hline \end{array}$$

$$42.305 \overline{)155}$$

$$15.535 \overline{)571}$$

$$35.289 \overline{)335}$$

$$81.633 \overline{)117}$$

$$49.652 \overline{)197}$$

$$78.934 \overline{)203}$$

Resuelve las siguientes operaciones:



$$\begin{array}{r} + 742 \\ \hline 1.672 \end{array}$$

$$\begin{array}{r} + 831 \\ \hline 1.061 \end{array}$$

$$\begin{array}{r} + 923 \\ \hline 1.336 \end{array}$$

$$\begin{array}{r} 612 \\ + \\ \hline 1.526 \end{array}$$

$$\begin{array}{r} + 760 \\ \hline 1.389 \end{array}$$

$$\begin{array}{r} + 921 \\ \hline 1.469 \end{array}$$

$$\begin{array}{r} 859 \\ + 820 \\ \hline \end{array}$$

$$\begin{array}{r} 871 \\ + 322 \\ \hline \end{array}$$

$$\begin{array}{r} 8.115 \\ \times 320 \\ \hline \end{array}$$

$$\begin{array}{r} 89.822 \\ \times 390 \\ \hline \end{array}$$

$$\begin{array}{r} 65.797 \\ \times 703 \\ \hline \end{array}$$

$$\begin{array}{r} 57.347 \\ \times 975 \\ \hline \end{array}$$

$$16.802 \overline{)870}$$

$$94.303 \overline{)617}$$

$$42.939 \overline{)462}$$

$$18.154 \overline{)148}$$

$$62.564 \overline{)806}$$

$$88.947 \overline{)636}$$

Resuelve las siguientes operaciones:



$$\begin{array}{r} + 780 \\ \hline 1.389 \end{array}$$

$$\begin{array}{r} + 354 \\ \hline 1.199 \end{array}$$

$$\begin{array}{r} 582 \\ + 613 \\ \hline \end{array}$$

$$\begin{array}{r} 603 \\ + \\ \hline 1.464 \end{array}$$

$$\begin{array}{r} 270 \\ + \\ \hline 1.194 \end{array}$$

$$\begin{array}{r} + 900 \\ \hline 1.099 \end{array}$$

$$\begin{array}{r} 278 \\ + 921 \\ \hline \end{array}$$

$$\begin{array}{r} 694 \\ + 602 \\ \hline \end{array}$$

$$\begin{array}{r} 93.071 \\ \times 959 \\ \hline \end{array}$$

$$\begin{array}{r} 39.243 \\ \times 627 \\ \hline \end{array}$$

$$\begin{array}{r} 77.796 \\ \times 575 \\ \hline \end{array}$$

$$\begin{array}{r} 2.823 \\ \times 862 \\ \hline \end{array}$$

$$22.168 \overline{)257}$$

$$5.628 \overline{)692}$$

$$69.770 \overline{)598}$$

$$81.063 \overline{)727}$$

$$39.100 \overline{)168}$$

$$34.840 \overline{)799}$$

Resuelve las siguientes operaciones:



$$\begin{array}{r} + 722 \\ \hline 1.093 \end{array}$$

$$\begin{array}{r} 963 \\ + 536 \\ \hline \end{array}$$

$$\begin{array}{r} + 731 \\ \hline 1.168 \end{array}$$

$$\begin{array}{r} + 940 \\ \hline 1.069 \end{array}$$

$$\begin{array}{r} 120 \\ + \\ \hline 1.044 \end{array}$$

$$\begin{array}{r} 182 \\ + \\ \hline 1.096 \end{array}$$

$$\begin{array}{r} 616 \\ + 611 \\ \hline \end{array}$$

$$\begin{array}{r} 264 \\ + 833 \\ \hline \end{array}$$

$$\begin{array}{r} 37.228 \\ \times 962 \\ \hline \end{array}$$

$$\begin{array}{r} 2.239 \\ \times 851 \\ \hline \end{array}$$

$$\begin{array}{r} 39.672 \\ \times 509 \\ \hline \end{array}$$

$$\begin{array}{r} 1.691 \\ \times 562 \\ \hline \end{array}$$

$$35.586 \overline{)275}$$

$$90.724 \overline{)534}$$

$$67.205 \overline{)327}$$

$$3.778 \overline{)583}$$

$$93.979 \overline{)984}$$

$$99.860 \overline{)377}$$

Resuelve las siguientes operaciones:



$$\begin{array}{r} + 923 \\ \hline 1.578 \end{array}$$

$$\begin{array}{r} 578 \\ + \\ \hline 1.499 \end{array}$$

$$\begin{array}{r} + 656 \\ \hline 1.077 \end{array}$$

$$\begin{array}{r} 632 \\ + \\ \hline 1.184 \end{array}$$

$$\begin{array}{r} 551 \\ + \\ \hline 1.099 \end{array}$$

$$\begin{array}{r} 423 \\ + 646 \\ \hline \end{array}$$

$$\begin{array}{r} 687 \\ + 612 \\ \hline \end{array}$$

$$\begin{array}{r} 903 \\ + 422 \\ \hline \end{array}$$

$$\begin{array}{r} 55.979 \\ \times 431 \\ \hline \end{array}$$

$$\begin{array}{r} 2.537 \\ \times 319 \\ \hline \end{array}$$

$$\begin{array}{r} 1.731 \\ \times 719 \\ \hline \end{array}$$

$$\begin{array}{r} 34.294 \\ \times 346 \\ \hline \end{array}$$

$$77.478 \overline{)106}$$

$$38.126 \overline{)371}$$

$$30.320 \overline{)407}$$

$$48.529 \overline{)697}$$

$$65.666 \overline{)901}$$

$$90.318 \overline{)714}$$

Resuelve las siguientes operaciones:



$$\begin{array}{r} 957 \\ + \\ \hline 1.398 \end{array}$$

$$\begin{array}{r} 166 \\ + \\ \hline 1.077 \end{array}$$

$$\begin{array}{r} 969 \\ + 220 \\ \hline \end{array}$$

$$\begin{array}{r} 664 \\ + \\ \hline 1.275 \end{array}$$

$$\begin{array}{r} + 923 \\ \hline 1.767 \end{array}$$

$$\begin{array}{r} + 732 \\ \hline 1.174 \end{array}$$

$$\begin{array}{r} 665 \\ + \\ \hline 1.088 \end{array}$$

$$\begin{array}{r} 807 \\ + \\ \hline 1.539 \end{array}$$

$$\begin{array}{r} 21.320 \\ \times 593 \\ \hline \end{array}$$

$$\begin{array}{r} 7.798 \\ \times 317 \\ \hline \end{array}$$

$$\begin{array}{r} 7.118 \\ \times 745 \\ \hline \end{array}$$

$$\begin{array}{r} 4.381 \\ \times 709 \\ \hline \end{array}$$

$$22.168 \overline{)257}$$

$$5.628 \overline{)692}$$

$$69.770 \overline{)598}$$

$$81.063 \overline{)727}$$

$$39.100 \overline{)168}$$

$$34.840 \overline{)799}$$